



TRƯỜNG TIỂU HỌC NGUYỄN THỊ BẢY

LỚP 5C

Giáo viên: Doãn Thị Hạnh Trinh


Thứ ba ngày 20 tháng 5 năm 2025

Toán

ĐK Hoài

đông

Trò chơi **AI NHANH - AI ĐÚNG**



Mỗi câu hỏi các em đọc
nhẩm và suy nghĩ trong vòng 15
giây, sau 15 giây các em xung
phong thật nhanh để trả lời các
em nhé!

AI NHANH-AI ĐÚNG



Câu 1. Trong các phân số : $\frac{3}{5}$; $\frac{89}{100}$; $\frac{45}{12}$ phân số nào là phân số thập phân?

$$\frac{89}{100}$$

Hết giờ



AI NHANH-AI ĐÚNG



Câu 2. Phân số $\frac{11}{25}$ viết thành phân số thập phân có mẫu số 100 là ?

$$\frac{44}{100}$$

Hết giờ



AI NHANH-AI ĐÚNG



Câu 3. Chuyển phân số thập phân $\frac{48}{100}$ thành số thập phân 0,8 đúng hay sai ?

Sai

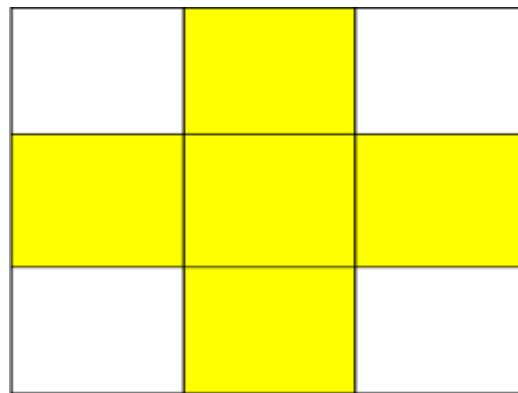
Hết giờ



AI NHANH-AI ĐÚNG



Câu 4. Hãy cho biết phân số chỉ số phần tô màu vàng trong hình sau?



$\frac{5}{9}$

Hết giờ



Thứ ba ngày 20 tháng 5 năm 2025


Toán

BÀI 36: TỈ SỐ. TỈ SỐ PHẦN TRĂM (tiết 1)

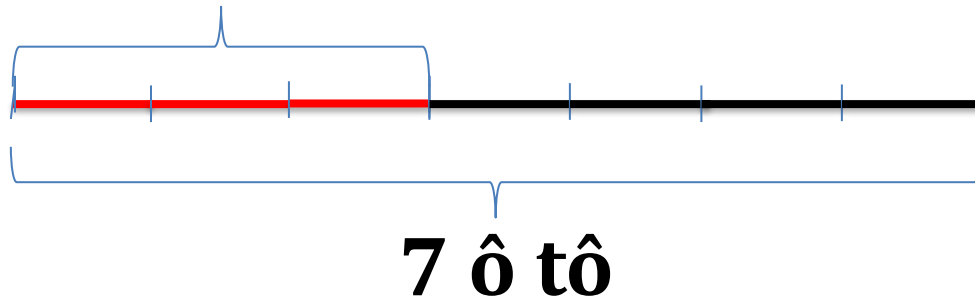
KHÁM

PHÁ

a)



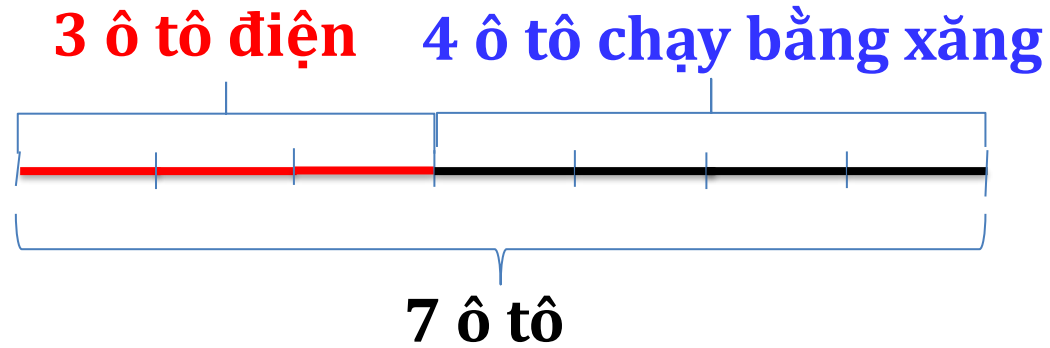
3 ô tô điện



Vậy số ô tô điện chiếm $\frac{3}{7}$ số ô tô ở bến.

Ta nói:

Tỉ số của ô tô điện và số ô tô ở bến là $3 : 7$ hay $\frac{3}{7}$
(tỉ số này cho biết số ô tô điện bằng $\frac{3}{7}$ số ô tô ở bến).



Tương tự, ta nói:

- Tỉ số của số ô tô chạy bằng xăng và số ô tô ở bến là $4 : 7$ hay $\frac{4}{7}$
- Tỉ số của số ô tô điện và số ô tô chạy bằng xăng là $3 : 4$ hay $\frac{3}{4}$
- Tỉ số của số ô tô chạy bằng xăng và số ô tô điện là $4 : 3$ hay $\frac{4}{3}$

Tỉ số của số a và b là $a : b$ hay $\frac{a}{b}$ (b khác 0)

b) Rô-bốt khảo sát 100 bạn khối 5 tham gia các môn thể thao thì thấy có 43 bạn tham gia môn Bơi, 31 bạn tham gia môn Cờ vua, 26 bạn tham gia môn Cầu lông. Rô-bốt tính tỉ số của số bạn tham gia ở mỗi môn và số bạn được khảo sát rồi ghi kết quả vào bảng sau:

| Môn thể thao | Bơi | Cờ vua | Cầu lông |
|---|------------------|------------------|------------------|
| Tỉ số của số bạn tham gia ở mỗi môn và số bạn được khảo sát | $\frac{43}{100}$ | $\frac{31}{100}$ | $\frac{26}{100}$ |

Các tỉ số $\frac{43}{100}$, $\frac{31}{100}$, $\frac{26}{100}$ được gọi là các tỉ số phần trăm.

Tỉ số $\frac{43}{100}$ đọc là : **Bốn mươi ba phần trăm**, viết là: **43 %**.

Tỉ số phần trăm của số bạn tham gia môn Bơi và số bạn được khảo sát là 43%. Tỉ số này cho biết: Cứ 100 bạn được khảo sát thì có 43 bạn tham gia môn Bơi.

HOẠT

ĐỘNG



1 Hoàn thành bảng sau (theo mẫu).

| Số thứ nhất | Số thứ 2 | Tỉ số của số thứ nhất và số thứ hai |
|-------------|------------|-------------------------------------|
| 3 | 11 | $\frac{3}{11}$ |
| 13 | 17 | $\frac{13}{17}$ |
| 17 | 13 | $\frac{17}{13}$ |
| m | n (khác 0) | $\frac{m}{n}$ |

2 Số?

Một trường tiểu học có 23 bạn nữ và 17 bạn nam tham gia cuộc thi “Trạng nguyên nhí”.

a) Tỉ số của số bạn nữ và số bạn nam là $\frac{23}{17}$

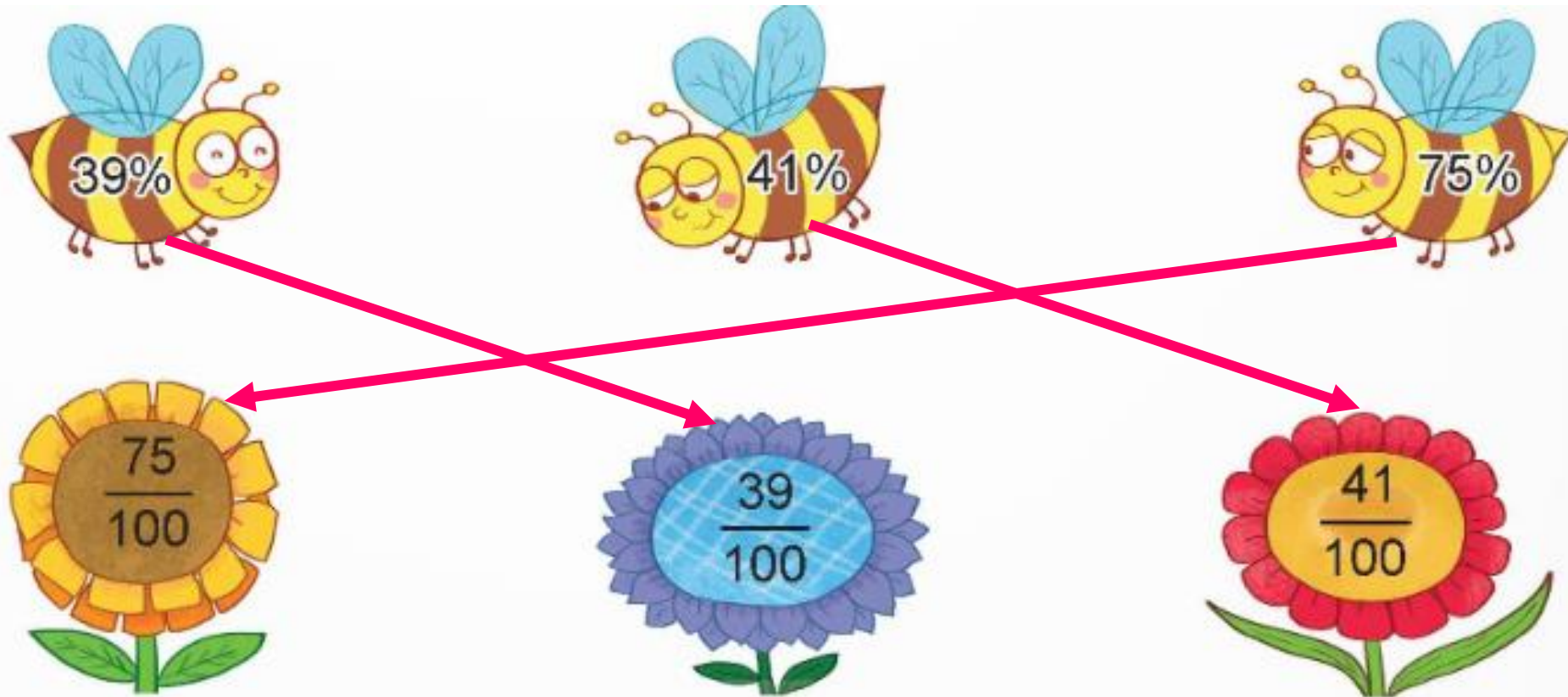
b) Tỉ số của số bạn nam và số bạn nữ là $\frac{17}{23}$

c) Tỉ số của số bạn nữ và tổng số bạn tham gia là $\frac{23}{40}$



3

Chọn bông hoa ghi tỉ số ứng với tỉ số phần trăm ghi trên mỗi con ong.



VĂN

DUNG





DẶN DỒ



